

Pos. 2 Connaissances professionnelles examen écrit

Comportement avec les chevaux et bouger les chevaux

Compétences opérationnelles d1 à d2 et d4 à d6

Nom
.....
Prénom
.....

Numéro d'examen
.....
Date
.....

Durée 90 minutes pour 3 positions

- Entretien des lieux de détention des chevaux et des installations
- Soins et affouragement des chevaux
- **Comportement avec les chevaux et bouger les chevaux**

- Instructions:**
- Le nombre de points possible est indiqué à chaque tâche.
 - Les tâches ne doivent pas être résolues dans l'ordre indiqué.
 - Dans une tâche si un certain nombre de réponses est exigé, le nombre déterminé est obligatoire.
 - Les réponses supplémentaires ne sont pas prises en considération.
 - Seuls des points entiers ou des demi-points sont donnés.

Aides

Auxiliaires : aucune

Nombre de points obtenus

Signature des expertes / experts :

.....







Délai d'attente: Ces épreuves d'examens ne peuvent pas être utilisées comme exercice avant le **1^{er} septembre 2018**

Élaboré par: Organisation du monde du travail métiers liés au cheval
Distributeur: CSFO, département procédures de qualification, Berne

	Nombre de points maximum obtenus	
Comportement avec les chevaux et bouger les chevaux		
<p>Tâche 1 / d1.2</p> <p>Décrivez le comportement d'un cheval dans les deux situations suivantes (langage corporel, expression, évt. son) à chaque fois en faisant trois déclarations.</p> <p>a) Le cheval est agité et tendu.</p> <p>1. _____</p> <p>2. _____</p> <p>3. _____</p> <p>b) Vous vous approchez d'un cheval agressif qui est dans son boxe.</p> <p>1. _____</p> <p>2. _____</p> <p>3. _____</p>	1.5	
<p>Tâche 2 / d1.4</p> <p>Une élève d'équitation voudrait savoir quelles races de chevaux sont typiquement suisses.</p> <p>a) Ecrivez le nom des deux races suisses existantes aujourd'hui.</p> <p>1. _____</p> <p>2. _____</p> <p>b) Décrivez en une phrase comment les races de demi-sang sont apparues à l'origine.</p> <p>_____</p>	1	1
À reporter	5	

		Nombre de points maximum obtenus									
Comportement avec les chevaux et bouger les chevaux											
Report		5									
<p>Tâche 3 / d1.6</p> <p>Vous travaillez dans une entreprise d'élevage, qui propose aux propriétaires de juments diverses méthodes de reproduction.</p> <p>Nommez trois méthodes de reproduction différentes.</p> <p>1. _____</p> <p>2. _____</p> <p>3. _____</p>		3									
<p>Tâche 4 / d1.7</p> <p>Une jument de votre entreprise est portante.</p> <p>Expliquez les besoins en mouvement spécifique d'une jument durant la gestation.</p> <table border="1" style="width: 100%; border-collapse: collapse;"> <thead> <tr> <th style="width: 25%;"></th> <th style="width: 75%;">Mouvement</th> </tr> </thead> <tbody> <tr> <td><i>Exemple : Durant les premières semaines</i></td> <td><i>Exemple : Monter ou bouger normalement, mais sans stress : danger de résorption</i></td> </tr> <tr> <td>Durant la gestation</td> <td></td> </tr> <tr> <td>Vers la fin de la gestation</td> <td></td> </tr> </tbody> </table>			Mouvement	<i>Exemple : Durant les premières semaines</i>	<i>Exemple : Monter ou bouger normalement, mais sans stress : danger de résorption</i>	Durant la gestation		Vers la fin de la gestation		2	
	Mouvement										
<i>Exemple : Durant les premières semaines</i>	<i>Exemple : Monter ou bouger normalement, mais sans stress : danger de résorption</i>										
Durant la gestation											
Vers la fin de la gestation											
À reporter		10									

	Nombre de points maximum obtenus	
Comportement avec les chevaux et bouger les chevaux		
Report	10	
Tâche 5 / d2.1 Votre supérieur vous demande de marcher le cheval « Lucky » sur le carré. Pour que vous puissiez mener « Lucky » en toute sécurité vous préparer le matériel nécessaire. Nommez quatre éléments utiles pour mener un cheval en toute sécurité. 1. _____ 2. _____ 3. _____ 4. _____	2	
Tâche 6 / d6.2 Vous devez nettoyer le matériel du cheval (selle, bride, protections des jambes etc.). Expliquez en trois déclarations pourquoi il est important de nettoyer régulièrement l'équipement. 1. _____ _____ 2. _____ _____ 3. _____ _____	3	
À reporter	15	

		Nombre de points maximum obtenus	
Comportement avec les chevaux et bouger les chevaux			
Report		15	
<p>Tâche 7 /d2.5</p> <p>Pour un cours de théorie vous devez apprendre à un groupe d'élèves d'équitation les différentes marques.</p> <p>Nommez les marques suivantes (voir annexe en couleur).</p>		3	
			
			
			
À reporter		18	

		Nombre de points maximum obtenus	
Comportement avec les chevaux et bouger les chevaux			
Report		18	
<p>Tâche 8 / d4.3</p> <p>Lorsque vous seller et brider un cheval vous voulez décrire à un élève les différentes parties de la selle et de la bride.</p> <p>Nommez les différentes parties de la selle.</p> <div style="text-align: center;"> </div>		3	
1			
2			
3			
4			
5			
6			
À reporter		21	

		Nombre de points maximum obtenus																
Comportement avec les chevaux et bouger les chevaux																		
Report		21																
<p>Tâche 9 / d4.10</p> <p>Aujourd'hui vous allez en balade avec une collègue de travail. Votre supérieur voudrait que vous respectiez les règles de circulation.</p> <p>Mettez une croix (x) pour dire si les déclarations suivantes sont justes ou fausses.</p> <table border="1" style="width: 100%; border-collapse: collapse;"> <thead> <tr> <th style="width: 60%;">Déclaration</th> <th style="width: 20%;">juste</th> <th style="width: 20%;">faux</th> </tr> </thead> <tbody> <tr> <td>Les cavaliers ont le droit de monter sur le trottoir.</td> <td style="text-align: center;"><input type="checkbox"/></td> <td style="text-align: center;"><input type="checkbox"/></td> </tr> <tr> <td>Les changements de direction doivent être indiqués avec le bras.</td> <td style="text-align: center;"><input type="checkbox"/></td> <td style="text-align: center;"><input type="checkbox"/></td> </tr> <tr> <td>La présélection doit être indiquée avec le bras.</td> <td style="text-align: center;"><input type="checkbox"/></td> <td style="text-align: center;"><input type="checkbox"/></td> </tr> <tr> <td>Monter côte à côte est autorisé sur les petites routes de jour et avec peu de circulation.</td> <td style="text-align: center;"><input type="checkbox"/></td> <td style="text-align: center;"><input type="checkbox"/></td> </tr> </tbody> </table>		Déclaration	juste	faux	Les cavaliers ont le droit de monter sur le trottoir.	<input type="checkbox"/>	<input type="checkbox"/>	Les changements de direction doivent être indiqués avec le bras.	<input type="checkbox"/>	<input type="checkbox"/>	La présélection doit être indiquée avec le bras.	<input type="checkbox"/>	<input type="checkbox"/>	Monter côte à côte est autorisé sur les petites routes de jour et avec peu de circulation.	<input type="checkbox"/>	<input type="checkbox"/>	2	
Déclaration	juste	faux																
Les cavaliers ont le droit de monter sur le trottoir.	<input type="checkbox"/>	<input type="checkbox"/>																
Les changements de direction doivent être indiqués avec le bras.	<input type="checkbox"/>	<input type="checkbox"/>																
La présélection doit être indiquée avec le bras.	<input type="checkbox"/>	<input type="checkbox"/>																
Monter côte à côte est autorisé sur les petites routes de jour et avec peu de circulation.	<input type="checkbox"/>	<input type="checkbox"/>																
<p>Tâche 10 / d5.3</p> <p>Votre supérieur a déposé sa voiture avec le van à un endroit adapté pour le chargement. Il vous demande de préparer le van pour le chargement de chevaux.</p> <p>Décrivez quatre travaux que vous devez accomplir.</p> <p>1. _____</p> <p>2. _____</p> <p>3. _____</p> <p>4. _____</p>		4																
Total		27																